

LA VIE EST DURE

POUR LES ENSEIGNANTS

Le niveau progresse à chaque diapositive le temps de réchauffer les abdos, les commentaires des profs sont mémorables.

0/3

Traduire la phrase « assis toi »

ça s'écrit "shot-up".

0/4

Quand est né Jesus Christ?

tu n'as pas besoin d'
être né pour le savoir

J'en sait rien j'étais pas
née

0/2

La prochaine fois tu apprendra mieux tes leçons

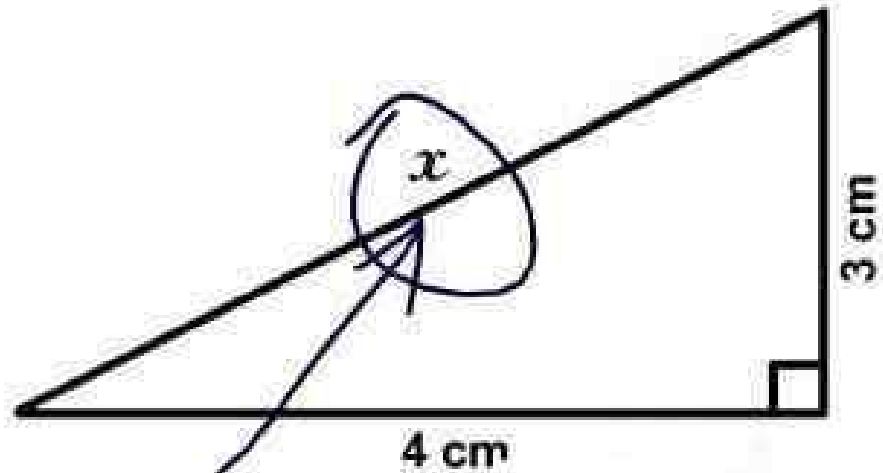
Où se trouve l'Angleterre ?

L'Angleterre se trouve en Afrique

1 - Donne la définition des termes suivants :

• Triangle rectangle : C'est un triangle qui a 3 côté parallèle

3. Trouver X.



Il est là

Nom : _____ Prénom : _____

Evaluation générale de conjugaison

$\frac{18}{108} \Rightarrow \frac{3,5}{20} \Rightarrow \underline{E}$ *Allez si lentement pour en arriver là, je trouve ça triste. Il faut ABSOLUMENT revoir les trois temps!*

1/ Conjugue ces verbes à l'imparfait.

	Danser	Nourir	Apprendre	Voyager	Dormir	Peindre
Je/j'	dansais	nourissais	apprenais	voyageais	dormais	peignais
Tu	dansais	nourissais	apprenais	voyageais	dormais	peignais
Il	dansait	nourissait	apprenait	voyageait	dormait	peignait
Nous	dansions	nourissions	apprenions	voyagions	dormions	peignions
Vous	dansiez	nourissiez	appreniez	voyagiez	dormiez	peigniez
Ils	dansaient	nourissaient	apprenaient	voyageaient	dormaient	peignaient

2/ Conjugue ces verbes au futur simple.

	Entrer	Finir	Entendre	Manger	Sortir	Croire
Je/j'	entrerais	finirais	entendrais	mangerais	sortirais	croirais
Tu	entreras	finiras	entendras	mangeras	sortiras	croiras
Il	entrera	finira	entendra	mangera	sortira	croira
Nous	entrerons	finirons	entendrons	mangerons	sortirons	croirons
Vous	entrerez	finirez	entendrez	mangerez	sortirez	croirez
Ils	entreront	finiront	entendront	mangeront	sortiront	croiront

3/ Conjugue ces verbes au passé simple.

	Terminer	Grasir	Aller	Partager	Mourir	Être
Je/j'	terminai	grassai	allai			
Tu	terminas	grassas	allas			
Il	termina	grassa	alla	<i>Sans commentaire...</i>		
Nous	terminâmes	grassâmes	allâmes			
Vous	terminâtes	grassâtes	allâtes			
Ils	terminèrent	grassèrent	allèrent			

Il sont en reste... sans voix!!

Complète le texte suivant : (12)

12. On appelle ~~condensation~~ le passage de l'eau de l'état solide à l'état liquide, et ~~condensation~~ la transformation inverse.

↳ Non, ça, c'est de la tisane !

1/ Pourquoi la machine à vapeur et une innovation majeure ?

1/ La machine à vapeur et une innovation majeure car les personnes peuvent rouler en voiture, sa c'est aussi à faire chauffer des légumes. Elle permet de manger équilibré.

Non : il est au naturel, avec cette orthographe !

le thon est dramatique. Les churros, Kinol et Habibis, l'auteur est Stephan

réponses copiées
betement sur le voisin
(qui n'a pas le même sujet)
05
20

Compléter le tableau suivant

6^e4

Nombre	Partie décimale	Partie entière
2,1	0,2	1
80,08	80	40
27	2	0
0,03	0,03	13

Où sont les exemples?
 Où est l'introduction?
 Où est la conclusion?
 Où sont les transitions?
 Où êtes-vous?

Cette note est aussi
 incompréhensible que votre
 devoir

3,7893272
 20

www.copies-doubles.fr.st

EXPRESSION ECRITE

Rédigez en anglais un paragraphe d'environ 60 mots dans lequel vous répondrez à la question suivante : (4 points)

"Why is it so important for a city to host the Olympic Games?"

Vocabulary help :

- Verbs you can use : build, modernize, develop, attract, welcome, create ...
- Nouns you can use : economic development, equipments (swimming pools, stadiums...), tourism (hotels, restaurants ...) means of transport ...

~~I am Cécile, I'm the winner, I don't like = TECIKTONIK, fashion and Olympique de Marseille. I think ^{it's} very important for a city (Paris) to host the Olympic games. London Cheat like the Olympic's games in 2012. PARIS OLYMPIQUE 2012 Forever.~~

~~I like 991 and ROUFF. US-US US CRETEIL UUUU URBAN DEVIS, ~~the~~ ~~street~~ ~~the~~ ~~way~~ ~~to~~ ~~gather~~ URBAN DEVIS URBAN DEVIS. We sing to gather URBAN DEVIS. URBAN DEVIS.~~

~~Vive the Street, 99, même les Kump et aux ami avec lycéenne, la France, une chatte qui ~~est~~ demande ce se faire faire !! ROUFF = TLF / TUBAL - ALAM 21 (OMBE) - HATIA KTRY~~

~~DEMAN OUL / HISTOIRE / KEERTAKES / SILIESA / BAK / AP / MOKOB / ROUFF et tous les mel du 94 et alleg creteil USO2~~

~~PS: mettez moi au moins 0,5 pts pour mon texte car l'est de la land tu rigoles?~~

pour les 4°3 uniquement : qu'est ce qu'un « MIRADOR » ? :

C'est une race de chien.

pour les 4°3 uniquement : qu'est ce qu'un « MIRADOR » ? :

Un mirador est un avion.

pour les 4°3 uniquement : qu'est ce qu'un « MIRADOR » ? :

Un mirador est un théorème.

ir les 4°3 uniquement : qu'est ce qu'un « MIRADOR » ? :

Un mirador est un oiseau.

9. Comment agit la bombe atomique sur la végétation ?

elle agit brutalement et explose les légumes. *Don: ça c'est une ratatouille!*

10. À quelle époque de l'année a eu lieu le bombardement ?

Si un quadrilatère est un triangle

quelconque alors il a ses deux perpendiculaires parallèles.

Donc les droites (d) et (AK) sont parallèles.

4 points

6) Dans le vignoble d'Armagnac, on connaît bien la « part des anges ». C'est la quantité d'eau-de-vie qui s'évapore à l'intérieur même du tonneau. Dans un tonneau de 200 litres, un vigneron a ajouté une première fois 1,75 litre. Un mois après, il ne restait plus que 197,8 litres. Calcule la part des anges (la quantité totale qui s'est évaporée).

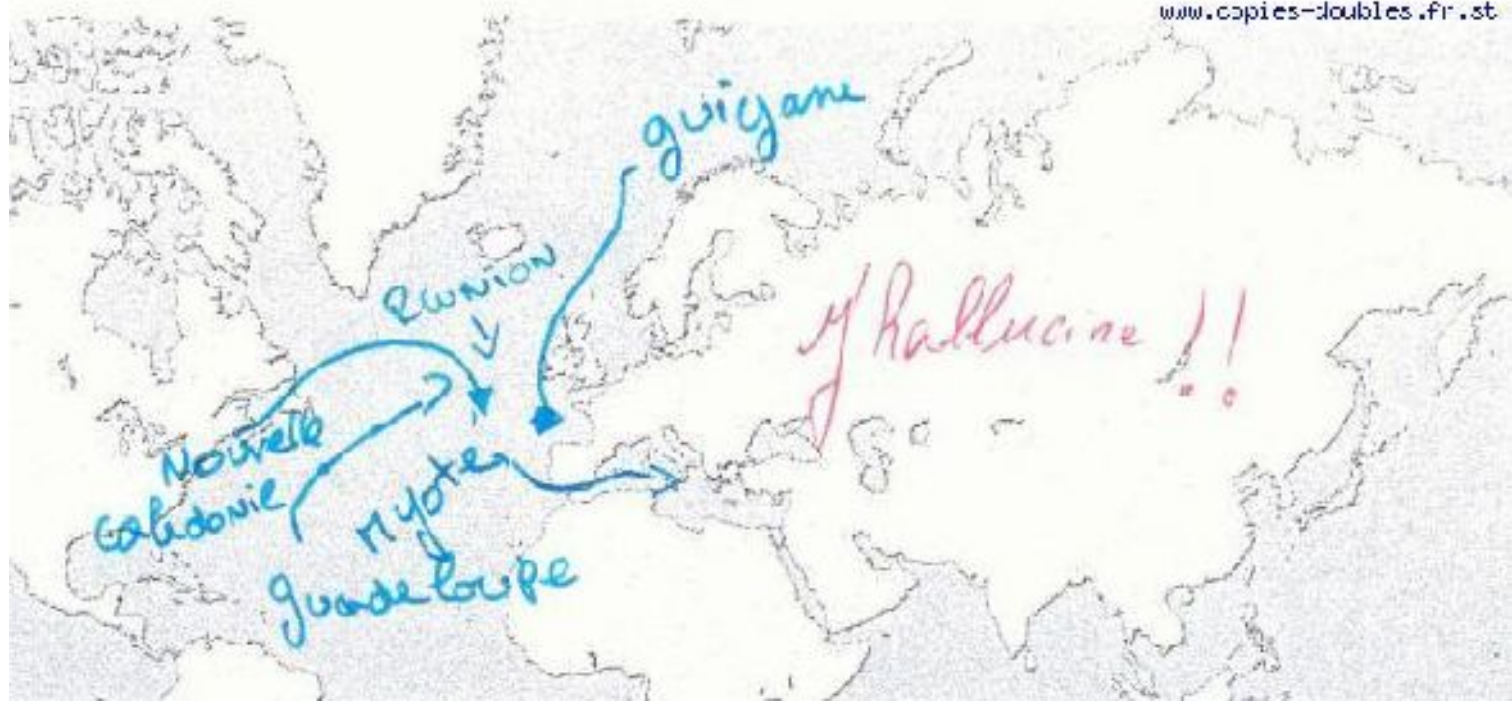
La quantité qui s'est évaporée est 202,95 car : $200 + 1,75 = 300,75 - 197,8 = 202,95$.

Donc, d'après toi, il faudrait remettre 2,95 l dans le tonneau pour qu'il soit vide...

$$\begin{array}{r}
 200 + 1,75 \text{ et} \\
 \begin{array}{r}
 200 \\
 + 1,75 \\
 \hline
 201,75
 \end{array}
 \end{array}$$

$$\begin{array}{r}
 200 \\
 + 1,75 \\
 \hline
 201,75
 \end{array}$$

$$\begin{array}{r}
 300,75 \\
 - 197,8 \\
 \hline
 202,95
 \end{array}$$



$$= 6R^2 \text{ (avec } 30^\circ R - \pi(0,92-16R^2)) =$$











D'après le site internet, le résultat est 16,42%.

Le sujet est: Les villes d'Afrique: raison des localisations et croissance urbaine. Avec le schéma il fallait expliquer les dynamiques de la croissance urbaine et faire la légende

La légende est fantastique et les explications.....

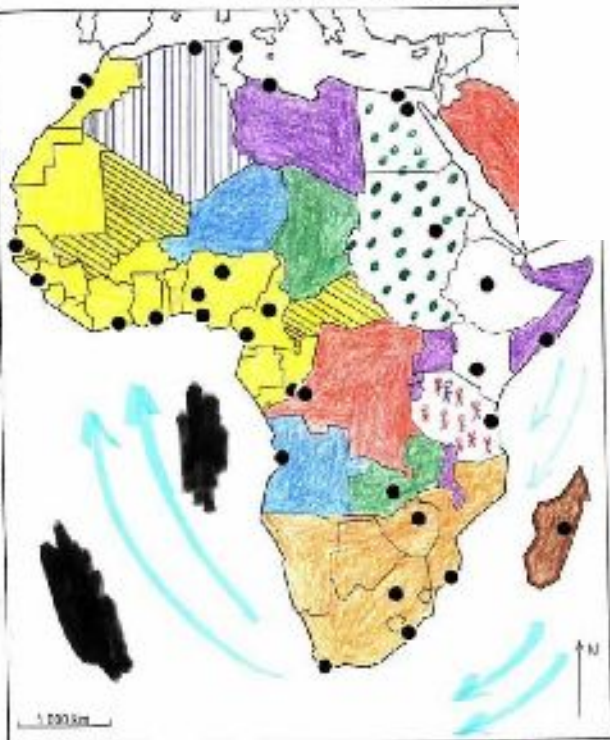
I / Premièrement: Visiblement tu ne vois pas comprendre les timbres nécessaires à ton

II / ... Et après: Vents qui ont eu lieu le 13 février 1963. Nappes de pétrole humeur !!

-  Pays bleus
-  Pays rouges
-  Anciens pays rouges devenant bleus
-  Anciens pays au bord de l'eau qui ont migrés
-  Pays du Nord-Ouest qui sont au bord de l'eau
-  Pays rouges de la carte (Ha Ha!)
-  Pays à forte exportation d'oranges
-  Pays atteints de maladie équine
-  Madagascar (Ha Ha! Un truc vrai!!!)
-  Pays de 10 habitants sur le bleu rouge au milieu

SUJET N°2 - 200 VILLES D'AFRIQUE: RAISON DES

ET CROISSANCE URBAINES
 Tu devrais de ce schéma expliquer les dynamiques de la croissance urbaine et les raisons de la localisation de ces villes. Explique par une phrase pourquoi et comment en quelques lignes



0,5 / 20

Explications:



I attendais de mes connaissances à ce sujet et bien quasi - nulles... Ah!! etant nulles! Se me suis dit que qu'il à moi zéro autant vous amuser un peu - Mais j'espère que vous avez pris du bon temps en corrigeant ma copie et que cela me décomprime un peu pendant cette période de corvées longues, fastidieuses, et ennuyeuses!!!

D'autres sur:

Diaporamas-a-la-con.com

Le site des meilleurs diaporamas humoristiques

[Attention le passage du pointeur de souris dans ce cadre déclenche un lien vers le site]